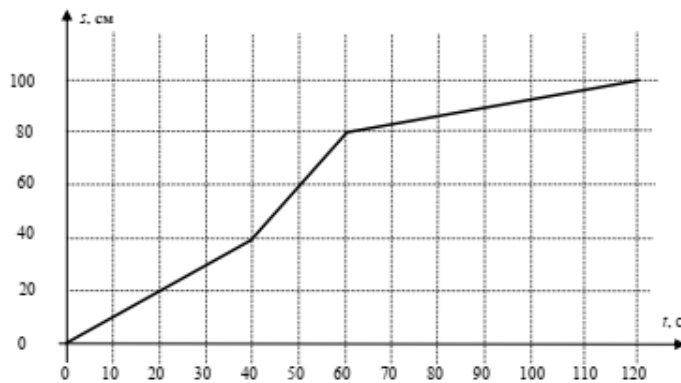
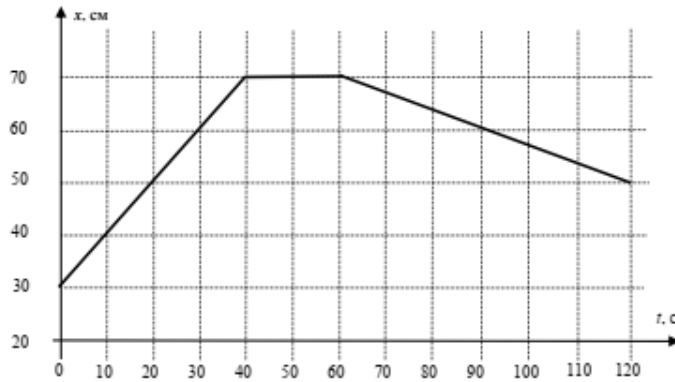


Карточка № 3

1. Столоход

Экспериментатор Глюк на большом лабораторном столе проводил испытания модели вездехода. Координатную ось X он направил вдоль длинного края стола. Зависимости координаты модели $x(t)$ и пройденного им пути $s(t)$ от времени приведены на графиках. Опишите характер движения модели вездехода (словами или сделав рисунок). Определите, с какой максимальной скоростью двигался вездеход? На каком расстоянии друг от друга находятся начальная и конечная точки его движения?



Возможное решение

Замятнин М.

Из графиков видно, что на первом участке (0 – 40 с) изменение координаты x равно пройденному вездеходом пути. Это означает, что движение происходило вдоль длинного края стола. На втором участке (40 – 60 с), координата x не изменялась, но путь продолжал увеличиваться. Такое возможно, если вездеход двигался в направлении, перпендикулярном оси X , причём часть времени он может ехать в одну сторону, а часть в обратную. На третьем участке (60 - 120 с) уменьшение координаты x совпало с изменением пройденного пути, следовательно, вездеход вновь двигался вдоль длинной стороны стола, но в направлении противоположном первоначальному.

Максимальную скорость вездеход имел на втором участке (самый большой угловой коэффициент наклона графика пути от времени). Из графика находим значение $v_{\max} = 2,0$ см/с.

На втором участке смещение модели вездехода может принимать значения от нуля до 40 см в направлении перпендикулярном оси X . Изменение координаты x за все время движения составило 20 см, откуда, по теореме Пифагора, можно найти максимальное расстояние между точками старта и финиша $L = \sqrt{20^2 + 40^2} \approx 45$ см. Таким образом искомое расстояние лежит в пределах от 20 см до 45 см.

2. Куб кубу рознь

Куб из однородного материала плавает, погрузившись на глубину h в жидкость. На какую глубину H в этой же жидкости погрузится куб, имеющий вдвое большую плотность и вдвое большую длину ребра?

Возможное решение

Замятнин М.

Запишем условие плавания куба с длиной ребра a , имеющего плотность ρ , в жидкости с плотностью ρ_* :

$$\rho_* h a^2 g = \rho a^3 g \quad \text{или} \quad h = a(\rho / \rho_*).$$

Тогда, для второго куба

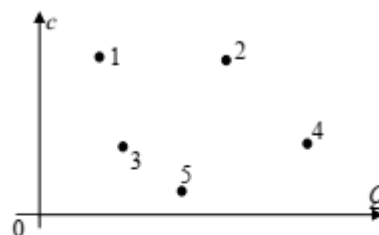
$$\rho_* H (2a)^2 g = (2\rho)(2a)^3 g \quad \text{или} \quad H = 4a(\rho / \rho_*).$$

Из этих уравнений следует, что: $H = 4h$.

Но это не окончательный ответ. Дело в том, что если $H = 4h > 2a$, то большой куб утонет. Это накладывает более жёсткое условие на плавание маленького куба. Так как $4h > 2a$, то $h < a/2$. Иными словами, глубина погружения маленького куба не должна превышать $a/2$. В противном случае большой куб утонет.

3. Разное нагревание

В лаборатории провели измерения удельной теплоемкости пяти твердых тел, имеющих одинаковую массу. Изменений агрегатного состояния вещества в процессе эксперимента не происходило. Результаты измерений нанесли на график, по одной оси



которого откладывалась удельная теплоемкость c , а по другой количество теплоты Q , подведённой к телам при их нагревании. К сожалению, масштаб по осям со временем был утрачен. Определите:

- какому телу было передано больше всего теплоты?
- у какого тела изменение температуры оказалось самым большим, а у какого самым маленьким?
- у каких тел изменения температуры оказались одинаковыми?

Примечание! Применять свои линейки для нанесения на график масштаба нельзя. Подобные решения будут оценены в ноль баллов.

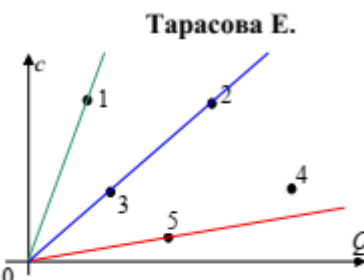
Возможное решение

Больше всего теплоты было передано телу 4.

Его координата по оси Q самая большая.

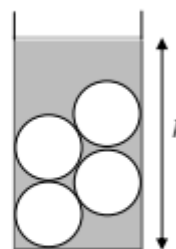
Если при нагревании твердого тела к нему подводится количество теплоты $Q = mc\Delta t$, то его температура повышается на $\Delta t = Q/mc$.

На координатной плоскости (c, Q) для всех тел, имеющих одинаковую массу, температура которых повысилась на одинаковую величину Δt , соответствующие точки лежат на одной прямой, проходящей через начало координат, так как для них отношение $Q/(mc)$ одно и то же. Из этого следует, что изменения температуры тел 2 и 3 одинаковы. Чем больше было повышение температуры, тем больше стало отношение $Q/(mc)$; а прямая, проведённая из начала координат, пойдёт под меньшим углом. Из этого следует, что больше всего нагрелось тело 5, а меньше всего тело 1.



4. Шарики

В цилиндрическом стакане находилось 4 шарика. Экспериментатор аккуратно с помощью шприца добавлял в стакан жидкость и заносил в таблицу значения высоты уровня жидкости в стакане в зависимости от объема добавленной жидкости. Известно, что в процессе эксперимента шарики не всплывали. По результатам измерений определите площадь сечения стакана и объем одного шарика.



$V, \text{ см}^3$	0	50	100	150	200	250	300	350	400	450	500	550	600
$h, \text{ см}$	0	1,2	2,7	4,1	5,3	7,0	9,0	10,5	12,0	13,0	14,0	15,0	16,0

Возможное решение

По табличным данным построим график зависимости $h(V)$. Из графика следует, что линейный характер этой зависимости начинается после объема 400 см^3 , и добавляемая жидкость распределяется по всему сечению сосуда равномерно. По угловому

коэффициенту наклона этой части графика найдём площадь сечения сосуда:

$$S = \frac{\Delta V}{\Delta h} = \frac{200}{4} = 50 \text{ см}^2.$$

Проведём экстраполяцию линейного участка до нулевого объема добавленной жидкости. В результате получим значение высоты «нулевого» уровня $h_0 = 4 \text{ см}$. Это позволяет найти суммарный объем четырех и объем одного шарика. $V_1 = Sh_0 / 4 = 50 \text{ см}^3$.

Решение 2. Из таблицы в условии видно, что, начиная с $V = 400 \text{ см}^3$ зависимость $h(V)$ является линейной, и добавление каждые 50 см^3 воды приводит к повышению уровня воды на $h = 1 \text{ см}$. Значит площадь сечения стакана $S = V/h = 50 \text{ см}^2$. При наличии в стакане $V = 600 \text{ см}^3$ воды, $h = 16 \text{ см}$, т.е. объем воды с шариками равен $hS = 800 \text{ см}^3$. Следовательно суммарный объем шариков равен $V_{\text{ш}} = 200 \text{ см}^3$, а одного шарика – 50 см^3 .

Замятнин М.

